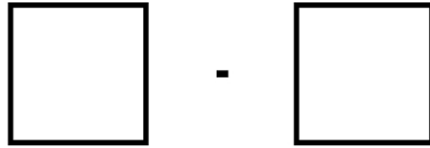



Anette K Matematik
Minus med nummerbrikker



Byg opgaven

Regn opgaven

$$\underline{\quad} - \underline{\quad} = \underline{\quad}$$



Minus


Anette K Matematik
Minus med nummerbrikker



Byg opgaven

Regn opgaven


$$\underline{\quad} - \underline{\quad} = \underline{\quad}$$



Minus

Anette K Matematik
Minus med nummerbrikker

$$6 - 3$$



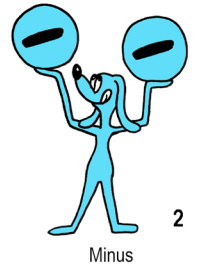
Anette K Matematik
Minus med nummerbrikker

$$6 - 6$$




Anette K Matematik
Minus med nummerbrikker

$$9 - 5$$




Anette K Matematik
Minus med nummerbrikker

$$7 - 4$$



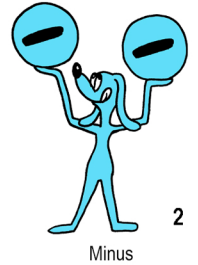
Anette K Matematik
Minus med nummerbrikker

$$7 - 3$$




Anette K Matematik
Minus med nummerbrikker

$$4 - 2$$



Anette K Matematik
Minus med nummerbrikker

$$9 - 8$$



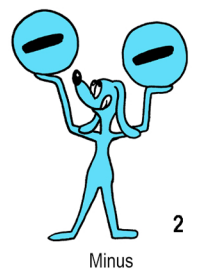
Anette K Matematik
Minus med nummerbrikker

$$9 - 3$$



Anette K Matematik
Minus med nummerbrikker

$$4 - 3$$



Anette K Matematik
Minus med nummerbrikker

$$7 - 5$$



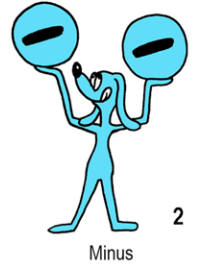
Anette K Matematik
Minus med nummerbrikker

$$5 - 3$$



Anette K Matematik
Minus med nummerbrikker

$$5 - 2$$



Anette K Matematik
Minus med nummerbrikker

$$4 - 1$$



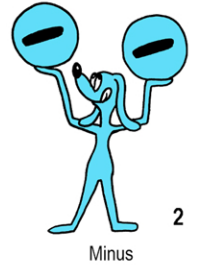
Anette K Matematik
Minus med nummerbrikker

$$3 - 2$$




Anette K Matematik
Minus med nummerbrikker

$$8 - 4$$



Anette K Matematik
Minus med nummerbrikker

$$8 - 3$$



Anette K Matematik
Minus med nummerbrikker

$$10 - 5$$



Anette K Matematik
Minus med nummerbrikker

$$10 - 7$$

